



# MUNICÍPIO DA ESTÂNCIA BALNEÁRIA DE PRAIA GRANDE

Estado de São Paulo  
SEDUC - Secretaria de Educação

## Atividade 4 PONTE DO SABER





1- Essas crianças estão indo para à escola. Para chegar ao seu destino elas deverão seguir para qual direção?



- (a) Direita.
- (b) Esquerda.
- (c) Seguir em frente.
- (d) Voltar atrás.

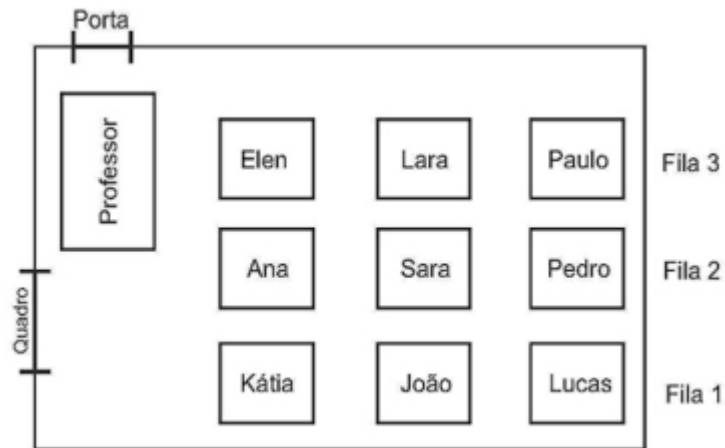
2- No diagrama abaixo a localização de cada objeto é identificada por uma letra e um número. Por exemplo, a casa está localizada em B2.

4				
3				
2				
1				
	A	B	C	D

De acordo com a figura o carro está localizado em:

- (a) A1
- (b) B3
- (c) C4
- (d) D2

3) Observe a representação de uma sala de aula



3.1 ) Qual o nome do aluno que está mais longe da professora?

- (a) Elen
- (b) Ana
- (c) Katia
- (d) Lucas

3.2 ) Qual o nome do aluno que está no centro da sala?

- (a) Pedro
- (b) João
- (c) Lucas
- (d) Sara

3.3) Qual aluno está atrás de João?

- (a) Kátia
- (b) Paulo
- (c) Lucas
- (d) Lara



Bons estudos!